










PRACOVNÝ LIST - TABUĽKA



1. ÚLOHA

Vieš sa orientovať v stovkovej tabuľke?




-  Červenou vyfarbi číslo v 4. riadku a v 5. stĺpci.
-  Modrou vyfarbi číslo o 3 väčšie ako číslo v 6. riadku a v 7. stĺpci.
-  Zelenou vyfarbi číslo o 2 menšie ako číslo v 5. riadku a v 8. stĺpci.
-  Žltou vyfarbi číslo 5-krát väčšie ako číslo v 2. riadku a v 5. stĺpci.
-  Fialovou vyfarbi číslo 6-krát menšie ako číslo v 6. riadku a v 10. stĺpci.
-  Hnedou vyfarbi 7-násobok čísla v 1. riadku a v 9. stĺpci.
-  Ružovou vyfarbi číslo v poslednom riadku a v prvom stĺpci.
-  Oranžovou vyfarbi číslo v prvom riadku a v predposlednom stĺpci.
-  Šedou vyfarbi číslo v predposlednom riadku a v poslednom stĺpci.

1	2	3	4	5	6	7	8	9	10
11	12	13	14	15	16	17	18	19	20
21	22	23	24	25	26	27	28	29	30
31	32	33	34	35	36	37	38	39	40
41	42	43	44	45	46	47	48	49	50
51	52	53	54	55	56	57	58	59	60
61	62	63	64	65	66	67	68	69	70
71	72	73	74	75	76	77	78	79	80
81	82	83	84	85	86	87	88	89	90
91	92	93	94	95	96	97	98	99	100






2. ÚLOHA

Ukáž, ako ti ide násobilka v stovkovej tabuľke.

-  Žltou vyfarbi všetky násobky čísla 2.
-  Červenou zakrúžkuj všetky násobky čísla 3.
-  Modrou podčiarkni všetky násobky čísla 4.

1	2	3	4	5	6	7	8	9	10
11	12	13	14	15	16	17	18	19	20
21	22	23	24	25	26	27	28	29	30
31	32	33	34	35	36	37	38	39	40
41	42	43	44	45	46	47	48	49	50
51	52	53	54	55	56	57	58	59	60
61	62	63	64	65	66	67	68	69	70
71	72	73	74	75	76	77	78	79	80
81	82	83	84	85	86	87	88	89	90
91	92	93	94	95	96	97	98	99	100

Odpovedz na tieto otázky:

-  Ktoré čísla sú vyfarbené žltou a zakrúžkované červenou farbičkou?
- Prečo?
-  Ktoré čísla sú vyfarbené žltou a podčiarknuté modrou farbičkou?
- Prečo?
-  Ktoré čísla sú zakrúžkované červenou a podčiarknuté modrou farbičkou?
- Prečo?